

2021-2022 EĞİTİM ÖĞRETİM YILI İLKOKULU
MATEMATİK DERSİ 4/.... SINIFI 2.DÖNEM 2.YAZILI SORULARI

Adı-Soyadı:.....

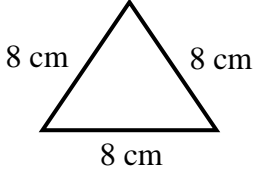
Tarih:...../...../2022

Numara:.....

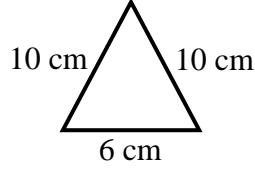
Puan:.....

SORULAR

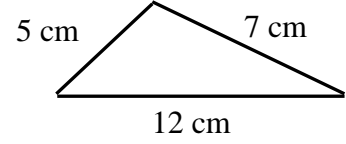
1.) Aşağıdaki üçgenlerin hangi çeşit üçgen olduklarını altına yazınız . (3 x 2 p. = 6 p.)



..... üçgen

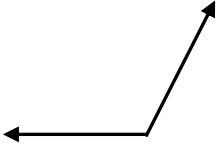


..... üçgen

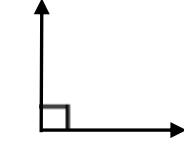


..... üçgen


2.) Aşağıdaki açıların hangi çeşit açı olduklarını altına yazınız . (4 x 2 p. = 8 p.)



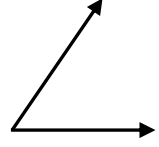
..... açı



..... açı



..... açı



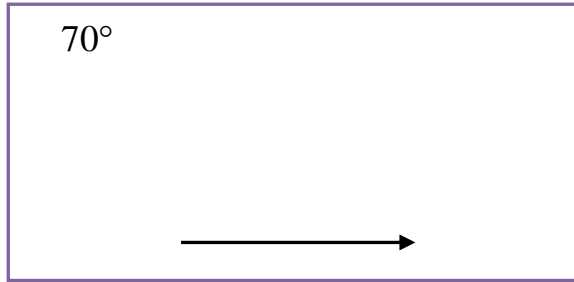
..... açı

3.) Aşağıda verilen açı ölçülerinin hangi çeşit açı oluşunu yanlarına yazınız. (Dik açı – Doğru açı – Geniş açı – Dar açı) (6 x 1 p. = 6 p.)

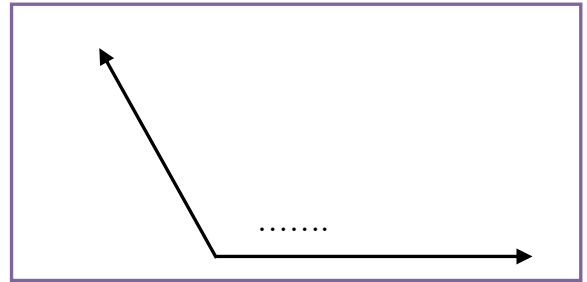
75° → 90° → 180° →

96° → 125° → 67° →

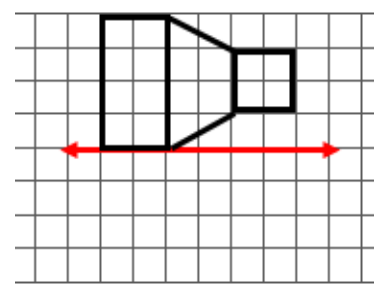
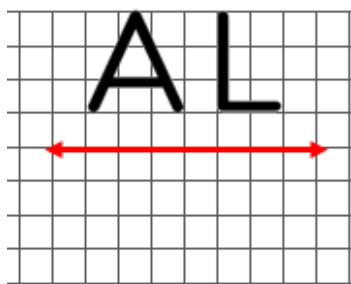
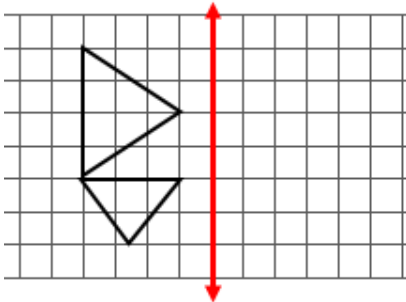
4.) Aşağıdaki ışını kullanarak ölçüsü verilen açıyı iletke ilekutu içine çiziniz. (5 p)



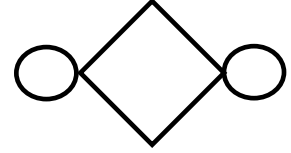
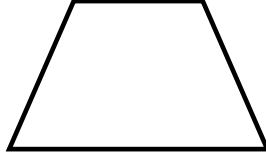
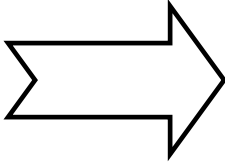
5.) Aşağıdaki açıyı iletke ile ölçüp sonucu noktalı yere yazınız. (5 p)



6.) Aşağıda verilen şekillerin doğruya göre simetriğini çizelim. (3x3 p. = 9 p)



7.) Aşağıda verilen şekillerin simetri doğrularını çizelim. (3 x 2 p. = 6 p.)



8.) Aşağıdaki uzunlukları istenilen birim cinsinden yazınız. (5 x 2 p. = 10 p.)

- a) 4 m = cm b) 35 km = m c) 8 cm = mm
d) 3 m 5 cm = cm e) 167 mm = cm mm


9.) Eşkenar bir üçgenin bir kenarı 16 cm olduğuna göre çevresi kaç cm'dir? (4 Puan)

Çözüm:

10.) Bir terzi 9 m kumaşın önce 275 cm'sini , sonra 355 cm'sini kullanmış. Geriye kaç cm kumaş kalmıştır ? (5 Puan)

Çözüm:

11.) Aşağıdaki kare ve dikdörtgenin alanlarının kaç birim kare olduğunu işlemle bulunuz. (6 Puan)



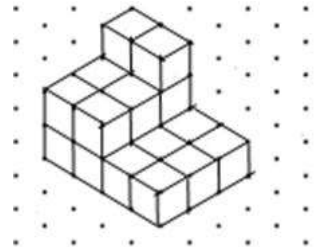
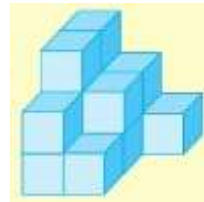
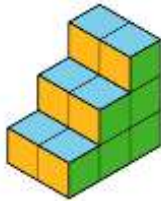
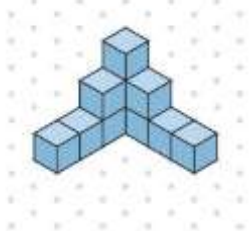
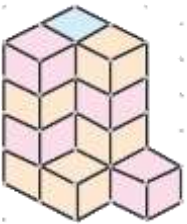
.....

.....

12.) Kısa kenarı uzun kenarından 25 cm kısa olan dikdörtgenin çevresi 190 cm'dir. Buna göre bir kısa kenar kaç cm'dir ? (10 Puan)

Çözüm:

13.) Aşağıdaki yapıların kaç birim küpten oluştuğunu bulup yazınız. (5x2 p= 10 p)



.....

.....

.....

.....

.....

14.) Bir kenarı 125 m olan kare şeklindeki koşu pistinde 4 tur koşan Umut toplam kaç m koşmuştur? (5 Puan)

Çözüm:

15.) Aşağıdaki soruları işlem yaparak cevaplayınız? (5 p)

6 tane yarım kg
kaç gramdır?

7 tane çeyrek kg
kaç gramdır?